


Räkna med mens

Nour har precis fått sin första mens. Hjälp Nour att räkna!

1. Nour fick sin första mens när hen var 11 och den sista kommer komma när hen är 49. Hur många år har Nour mens?
2. Nours menscykel är i genomsnitt 26 dagar lång.
 - a. Hur många gånger hinner Nour ha mens under ett år?
 - b. Hur många gånger kommer Nour ha mens i livet?
3. Under de 26 dagarna har Nour mens 4 dagar.
 - a. Hur många dagar per år har Nour mens?
 - b. Hur många dagar kommer Nour ha mens i livet?
4. Varje dag som Nour har mens använder hen 5 bindor.
 - a. Hur många bindor går åt under en mens?
 - b. Hur många bindor går åt under ett år?
 - c. Hur många bindor kommer gå åt tills Nour fyller 20 år?
 - d. Hur många bindor kommer gå åt under alla år Nour har mens?
5. Nours bindor kostar 1,85 kronor styck.
 - a. Hur mycket kostar bindorna under en mens?
 - b. Hur mycket kostar bindorna under ett år?
 - c. Hur mycket kommer bindorna kosta tills Nour fyllt 20 år?
 - d. Hur mycket kommer bindorna kosta under alla år Nour har mens?
6. Varannan gång Nour har mens behöver hen använda värktabletter mot mensvärk. Tabletterna kostar 10 kronor per mens.
 - a. Hur mycket kostar Nours värktabletter under ett år?
 - b. Hur mycket kostar värktabletterna under alla år Nour har mens?


Räkna med mens

Kolli har haft mens i 3 år och den är oftast regelbunden. Menscykeln brukar vara i 31 dagar och mensen är i 6 av dem. Senaste mensens började den 4:e förra månaden. Utgå ifrån dagens datum när du räknar.

1. När kommer Kollis nästa mens?
 2. Kommer Kolli ha mens på skolavslutningen den 10 juni?
 3. Kommer Kolli ha mens sin födelsedag den 24 november?
- 

Räkna med mens

Mio ska åka på läger i två veckor. Hen vet att mensens kommer komma medan hen är borta. Mio gillar mest att använda binda och gör helst det, men vet att hen kommer behöva använda tampong också eftersom de ska bada på lägret. Mio har mens i fem dagar och byter binda var fjärde timme på dagen och direkt på morgonen när hen vaknar.

1. Hur många bindor ska Mio packa med?
 2. Hur många tamponger ska Mio packa med?
 3. Hur många nattbindor ska Mio packa med?
- 


Räkna med mens

Cro och Yass är vänner. Cro använder tampong när hen har mens. Varje år kostar tampongerna 460 kronor. Yass har precis köpt en menskopp som hen betalade 299 kronor för. Yass menskopp kan användas i 5 år.

1. Vad är skillnaden i pris mellan Cro och Yass mensskydd på ett år?
2. Vad är skillnaden i pris mellan Cro och Yass mensskydd på fem år?
3. Vad är skillnaden i pris mellan Cro och Yass mensskydd på tio år om Yass köper ny menskopp efter fem år?

Räkna med mens

Soraya och Juno går i samma klass och är 16 år. Soraya fick mens när hon fyllde 10 och Juno fick mens när hon var 15. Hur många fler menstruationer än Juno har Soraya haft om hon haft mens en gång i månaden sedan hon fick den första?




Räkna med mens

Tara har haft mens i 2 år och mensskydden har i snitt kostat 45 kronor i månaden. Nu funderar hen på att prova tygbindor. Hen har tänkt att hen skulle behöva köpa 6 tygbindor. Tygbindorna kostar 59 kronor styck så det blir en ganska stor kostnad när de köps in.

1. Hur lång tid skulle det ta innan tygbindorna går plus-minus-noll med engångsbindor?
2. Hur mycket pengar kommer Tara ha sparat om hen använder tygbindorna i 3 år?

Räkna med mens

I klass 5C går 28 personer. 12 av dem har livmoder. Utav de 12 har hittills 5 fått sin första mens.

1. Hur många procent av klassen har livmoder?
 2. Hur många procent av klassen har fått mens?
 3. Hur många procent av de med livmoder har fått mens?
 4. Om en person till får sin första mens
 - a. Hur många procent av klassen har fått mens då?
 - b. Hur många procent av de med livmoder har fått mens då?
- 

Räkna med mens

I Jossis familj är de 3 personer som har mens. Mamma, Jossi och hens storasyskon Lalo. Alla har mens en gång i månaden. Jossis mens pågår i 4 dagar, Lalos i 5 dagar och mammas i 6 dagar. Alla använder bindor och använder 4 bindor och 1 nattbinda per dygn.

1. Hur många bindor går åt i hushållet på en månad?
2. Hur många bindor går åt i hushållet på ett år?
3. Om bindorna kostar 1,25 kronor och nattbindorna 1,85 kr.
 - a. Hur mycket kostar bindorna i hushållet en månad?
 - b. Hur mycket kostar bindorna i hushållet ett år?

Räkna med mens

Myre har skrivit upp vilka dagar hen haft mens under ett år.

Januari 11-15	Juli 5-10
Februari 10-15	Augusti 4-9
Mars 10-14	September 3-8
April 8-13	Oktober 3-9
Maj 7-12	November 2-8
Juni 7-13	December 2-7

1. Hur lång var Myres menscykel i genomsnitt under året?
2. Hur många dagar under året hade Myre mens?
3. Hur många tamponger använde Myre under året om det gick åt 6 stycken varje mensdag?
4. Rita ett stapeldiagram för att presentera informationen i tabellen.